



باسمه تعالی

آموزش و پرورش ناحیه ۶ مشهد

دبستان دخترانه غیر دولتی ترنج دانش

نام درس:

کلاس:

نام و نام خانوادگی:

تاریخ:

نام آموزگار:

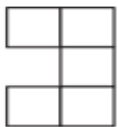
۱- پاسخ هر یک از سوالات زیر را در مقابل آن ها نوشته و جاهای خالی را پر کنید.

الف: عدد ۵۸۲۰۹۷۳ را به حروف بنویسید.

ب: عدد سی و نه میلیون و شصت و چهار هزار و پانصد و هفتاد و یک را به عدد بنویسید.

ج: ثلث ۹۰ چند می شود؟


۲- الگوی شکل های زیر را پیدا کرده و مشخص کنید شکل هفتم از چند مربع تشکیل شده است.



شکل (۱)



شکل (۲)



شکل (۳)

الگوی شکل ها:

تعداد مربع های شکل (۷):

۳- با استفاده از عدد های ۱ و ۴ و ۵ و ۷ و ۸ به سوالات زیر پاسخ دهید.

الف: کوچکترین عدد پنج رقمی فرد:

ب: بزرگترین عدد پنج رقمی زوج:

ج: بزرگترین عدد پنج رقمی که دهگان هزار آن فرد باشد:



باسمه تعالی

آموزش و پرورش ناحیه ۶ مشهد

دبستان دخترانه غیر دولتی ترنج دانش

نام درس:

کلاس:

نام و نام خانوادگی:

تاریخ:

نام آموزگار:

۴- جمع و تفریق های زیر را انجام دهید.

$$\left(4 \times \frac{3}{50} \right) - \frac{1}{5} =$$

$$\frac{11}{20} - \frac{3}{10} =$$

$$\frac{2}{6} + \frac{3}{2} =$$

۵- کسرهای زیر را ساده کنید و در داخل دایره یکی از علامت های $< = >$ را قرار دهید.

$$\frac{14}{21} =$$

$$\frac{18}{3} =$$

$$\frac{120}{160} =$$

$$\frac{5}{10} \bigcirc$$

$$\frac{35}{70} \bigcirc$$

$$\frac{1}{1000} \bigcirc$$

$$\frac{1}{100} \bigcirc$$

$$\frac{5}{700} \bigcirc$$

$$\frac{1}{200} \bigcirc$$

۶- حاصل ضرب های زیر را به دست آورید.

$$\begin{array}{r} 5689 \\ \times 24 \\ \hline \end{array}$$

$$\begin{array}{r} 832 \\ \times 759 \\ \hline \end{array}$$



باسمه تعالی

آموزش و پرورش ناحیه ۶ مشهد

دبستان دخترانه غیر دولتی ترنج دانش

نام درس:

کلاس:

نام و نام خانوادگی:

تاریخ:

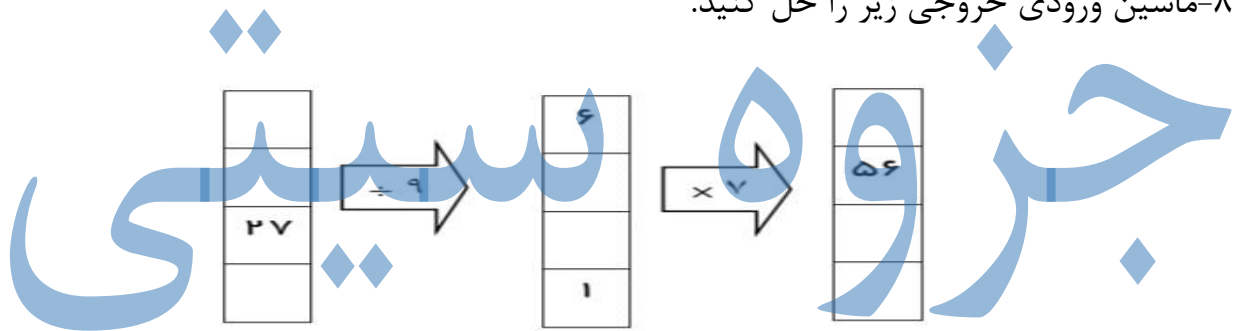
نام آموزگار:

۷- تقسیم های زیر را انجام دهید و رابطه تقسیم بنویسید.

$$9720 \overline{) 3}$$

$$1458 \overline{) 15}$$

۸- ماشین ورودی خروجی زیر را حل کنید.



۸- حمید و برادرش میخواهند پرچم درست کنند. پس از یک هفته حمید $\frac{1}{4}$ از پرچم ها و برادرش $\frac{3}{8}$ از پرچم ها را درست کرده اند. چه تعداد از پرچم ها هنوز آماده نشده است؟

۱۰- مدیر یک تیم والیبال برای ۱۲ بازیکن پیراهن ورزشی خرید و ۳۲۴ هزار تومان پرداخت کرد. قیمت هر پیراهن ورزشی این تیم چند تومان است؟